

1.



Kája měl za domácí úkol vypočítat 18 příkladů. Už jich má vypočítaných 6. Kolik příkladů mu ještě zbývá vypočítat?

Z \_\_\_\_\_

V \_\_\_\_\_

Kájovi zbývá vypočítat \_\_\_\_\_ příkladů.


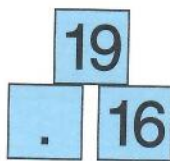

2. Vypočítej:

$6-4=$	$9-6=$	$17-5=$	$20-8=$
$16-4=$	$15-3=$	$19-6=$	$20-7=$
$7-3=$	$8-4=$	$16-2=$	$19-5=$
$17-3=$	$18-4=$	$18-3=$	$17-2=$

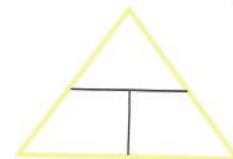
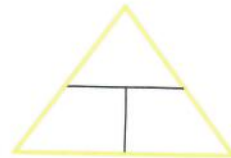
3.



4. Doplň:



5. Vypočítej a správně doplň do pyramidy. Zapiš zbývající příklady:



$12+4=16$

$17+3=$

$14+5=$

6. Doplň tak, aby součet na lístku se rovnal 20:



7. Dokresli druhou polovinu:

